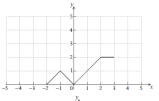
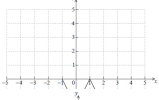


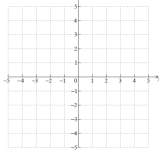
IB Funciones Problema 004



para $-2 \leq x \leq 3$ se muestra a continuación.



se transforma para obtener la gráfica de g que se muestra a continuación.



Trace la gráfica de $f(-x)$ en el sistema de ejes a continuación.

B. La función g puede escribirse en la forma $g(x) = a f(x + b)$.

Encuentre el valor de a y el valor de b .